




Which of the following shape is a Square ?



Four _____



foxes

foxs

fox

Atif studies in Lahore. His parents live in Sialkot. He will go to Islamabad next year.

Where will Atif go next year?

Lahore

Sialkot

Islamabad

درست ترتیب کے جملے کی نشاندہی کریں

نادر بجائے گا بانسری۔

نادر بانسری بجائے گا۔

بانسری بجائے گا نادر۔

He _____ the
paper.



cried

tore

climbed

The time on the clock is






4:08

4:40

8:20




دائرہ (Circle) پہچانیے۔



The boy is

_____.



brushing

sitting

standing

Two _____




apple

apples

applees

The fraction used to represent the shaded part is



$1/12$

$1/10$

$1/11$


$$6 = \square - 11$$

5

4

3

تصویر کے نام کے پہلے
حرف کی شناخت کریں



ب

ط

خ

عروج کو آم بہت پسند ہیں۔ اس کے ابو بازار سے آم لائے تو اس نے جلدی سے اپنی امی کو لے جا کر دے دیے۔ اس کی امی آم کا جوس بنائیں گی۔

آم کسے پسند ہیں؟

عروج کو

عروج کے ابو کو

عروج کی امی کو

تصویر کے نام کے پہلے
حرف کی شناخت کریں



ت

ح

د

$$362 - 149$$

511

213

115

رنگ دار حصہ کی
کسر (fraction)
بتائیے۔

$1/8$

$1/10$

$1/9$

Small letter of 'J' is

j

l

h

Identify the
word with
correct spelling



cheek

cheak

cheeck



ارکان ملائیں: نج + لی = _____

بلج

بلجی

بجلی

درست ترتیب کے جملے کی نشاندہی کریں

کرے گی سمیرا سیر۔

سمیرا سیر کرے گی۔

کرے گی سیر سمیرا۔

ابلی" کی جمع ہے

بلا

بلیاں

بالی



کلاک دیکھ کر وقت
بتائیے۔ (Time)

7:20

4:35

4:07